



طالِبُ الْعِلْمِ طالِبُ الرَّحْمَةِ. پیامبر(ص)
جوایای دانش، جوایای رحمت است.

آزمون تبار- مرحله دوم

موسسه فرهنگی آموزشی امام حسین علیه السلام

نام درس	تعداد سوال	از سوال	تاسوال	زمان پیشنهادی
قرآن	۱۰	۱	۱۰	۱۰
پیام های آسمان	۱۰	۱۱	۲۰	۱۰
علوم تجربی	۱۵	۲۱	۳۵	۲۵
ریاضی	۱۵	۳۶	۵۰	۲۵
انگلیسی	۱۰	۵۱	۶۰	۱۰
ادبیات فارسی	۱۰	۶۱	۷۰	۱۰
عربی	۱۰	۷۱	۸۰	۱۰
مطالعات اجتماعی	۱۵	۸۱	۹۵	۱۵

مدت زمان آزمون



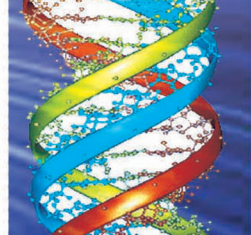

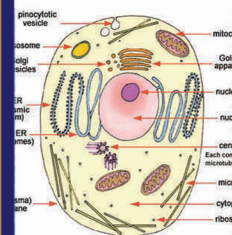

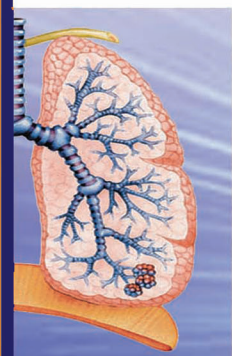
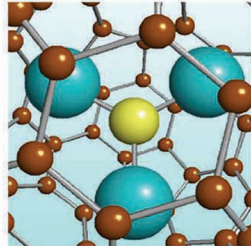
«آزمون نمره منفی دارد»

پایه تحصیلی: هشتم

جهت دریافت کارنامه به آدرس اینترنتی Tabaar.org مراجعه فرمایید.



تاریخ برگزاری: ۹۸/۱۲/۱۳
تعداد سوالات: ۹۵
مدت زمان پاسخگویی: ۱۱۵
زمان شروع آزمون: ۸ صبح



- ۱- معنای کلمه «نَبَأًا» کدام گزینه است؟
 ۱) پیامبر ۲) خبر ۳) رویانندیم ۴) قرار دادیم
- ۲- معنای عبارت قرآنی «كَمْ أَنْبَتْنَا فِيهَا مِنْ كُلِّ زَوْجٍ كَرِيمٍ» کدام است؟
 ۱) چه مقدار آفریدیم از هر چیزی انواع گوناگون و نیگوی آن را
 ۲) چه بسیار آفریدیم از هر چیزی جفت آن را
 ۳) چه مقدار آفریدیم از هر چیزی جفت آن را
 ۴) چه بسیار رویانندیم در آن از هر نوع (گیاه) ارزشمند و مفید
- ۳- معنای کلمه‌های «لَا يُخْلِِفُ - يُؤْتُونَ - اتَّقِ» به ترتیب کدام است؟
 ۱) مخالفت نمی‌کند - عمل می‌کنند - پیروی کن
 ۲) تخلف نمی‌کند - می‌پردازند - تقوا پیشه کن
 ۳) تخلف نمی‌کند - می‌پردازند - پیروی کن
 ۴) مخالفت نمی‌کند - عمل می‌کنند - تقوا پیشه کن
- ۴- «می‌دانستند» ترجمه کدام کلمه است؟
 ۱) يَعْلَمُونَ ۲) تَعْلَمُونَ ۳) كَانُوا يَعْلَمُونَ ۴) كَانُوا تَعْلَمُونَ
- ۵- جای خالی را با واژه‌ی مناسب کامل کنید. «وَإِنَّ أَوْهَنَ الْيَبُوتِ لَيَبُوتُ الْعَنَكُوتِ وَ قَطْعًا خانه‌ها، خانه عنكبوت است.»
 ۱) سست‌ترین ۲) بدترین ۳) پست‌ترین ۴) زیباترین
- ۶- با توجه به قواعد قرآنی، ترجمه‌ی ترکیب‌های «أَنْ أَعْبُدَ - وَأَطِيعُونَ» به ترتیب در کدام گزینه آمده است؟
 ۱) اگر عبادت کنم - اطاعتش کنید
 ۲) قطعاً عبادت می‌کنم - و اطاعت کنید
 ۳) که عبادت کنم - و اطاعت کنید مرا
 ۴) تا عبادت کنی - و اطاعت کنید آن‌ها را
- ۷- واژگان «انکار کرد - دعوت کننده - صحرا» به ترتیب ترجمه لغت‌هاست؟
 ۱) كَذَّبَ - دَعَا - بَحْر ۲) حَسِبَ - دَعَا - بَحْر
 ۳) حَسِبَ - دَاعِيَ - بَرَّ ۴) كَذَّبَ - دَاعِيَ - بَرَّ
- ۸- کلمه‌های کدام گزینه، همگی فعل هستند؟
 ۱) جَاهِدَ - نُزِئِدُ - يُرْسِلُ ۲) نَبَأَ - غَنَى - ءَامَنَّا
 ۳) مَن دُونَ - اتَّخَذَ - يَعْمَلُونَ ۴) غَافِلُونَ - يَوْقِنُونَ - يُوتُونَ
- ۹- جمع کدام کلمه نادرست است؟
 ۱) امام ← ائمه ۲) نَبَأٌ ← انبياء ۳) ولی ← اولياء ۴) نفس ← انفس
- ۱۰- کدام گزینه غلط ترجمه شده است؟
 ۱) وَعَدَ اللَّهُ لَا يُخْلِفُ اللَّهُ وَعْدَهُ ← وعده خداست، خدا هرگز از وعده خود تخلف نمی‌کند.
 ۲) وَهُمْ لَا يُفْتَنُونَ ← و آن‌ها آزمایش نمی‌شوند؟
 ۳) وَهُمْ بِالْآخِرَةِ هُمْ يُوقِنُونَ ← و بالاخره یقین می‌آورند.
 ۴) وَلَا تَتَّبِعِ الْفَسَادَ فِي الْأَرْضِ ← و هرگز طلب نکن فساد را در زمین.

- ۱۱- کدام یک از موارد زیر از قوانین اجتماعی در اسلام است؟
 ۱) نماز خواندن ۲) روزه گرفتن ۳) دعا کردن ۴) احکام محرم و نامحرم
- ۱۲- ضرب‌المثل «شنیدن کی بود مانند دیدن» به کدام یک از آثار روزه می‌تواند مرتبط باشد؟
 ۱) تقویت صبر و تقوا ۲) توجه به محرومان ۳) حفظ سلامتی ۴) حفظ انسان در برابر آتش دوزخ
- ۱۳- آیه‌ی «قُلْ مَنْ حَرَّمَ زِينَةَ اللَّهِ الَّتِي أَخْرَجَ لِعِبَادِهِ وَالطَّيِّبَاتِ مِنَ الرِّزْقِ» درباره‌ی چه کسانی است؟
 ۱) کسانی که خود را از نعمت‌های الهی محروم می‌کنند.
 ۲) کسانی که نعمت‌های بیشمار را انکار می‌کنند.
 ۳) کسانی که بسیار اسراف می‌کنند.
 ۴) کسانی که رزق و روزی حرام دارند.
- ۱۴- کدام یک از موارد زیر در میان احکام اسلامی از سفارش و تأکید بیشتری برخوردار است؟
 ۱) اخلاق نیکو ۲) اتفاق در راه خدا ۳) جهاد در راه خدا ۴) نماز
- ۱۵- طبق حدیث ثقلین تنها راه رسیدن به سعادت و راهیابی به بهشت چیست؟
 ۱) پناه بردن به قرآن و اهل بیت ۲) دوری از اسراف ۳) مبارزه با شرک و بت پرستی ۴) نیکی به پدر و مادر
- ۱۶- اولین سرمایه انسان برای خوشبختی در دنیا و آخرت چیست؟
 ۱) زندگی و عمر ۲) عقل ۳) اختیار ۴) ایمان
- ۱۷- کدام یک از راه‌های درمان مصرف‌گرایی نیست؟
 ۱) به شایعاتی که درباره‌ی گران شدن کالا در آینده می‌شنویم، توجه نکنیم.
 ۲) در انتخاب اجناس به تجربه خود اعتماد داشته باشیم.
 ۳) بدانیم اجناس گران قیمت خریدن به ارزش انسان نمی‌افزاید.
 ۴) سعی کنیم فقط با مد روز حرکت کنیم.

۱۸- در کدام آیه، بانوان به حفظ گفتار خود در برابر نامحرم سفارش شده‌اند؟

- ۱) قُلْ مَنْ حَرَّمَ زِينَةَ اللَّهِ الَّتِي أَخْرَجَ لِعِبَادِهِ وَالطَّيِّبَاتِ مِنَ الرِّزْقِ
 ۲) فَلَا تَخْضَعْنَ بِالْقَوْلِ فَيَطْمَعَ الَّذِي فِي قَلْبِهِ مَرَضٌ وَقُلْنَ قَوْلًا مَعْرُوفًا
 ۳) فَلَا تَخْشَوْهُمْ وَاخْشَوْنَ الْيَوْمَ أَكْمَلْتُ لَكُمْ دِينَكُمْ
 ۴) حَتَّىٰ إِذَا جَاءَ أَحَدَهُمُ الْمَوْتُ قَالَ رَبِّ ارْجِعُونِ

۱۹- مهم‌ترین پیامد بی‌توجهی به حجاب چیست؟

- ۱) بی‌ارزش شدن جایگاه زن
 ۲) بی‌ارزش شدن جایگاه زن
 ۳) از هم پاشیدن نظام خانواده
 ۴) دور شدن انسان از خدا
 ۲۰- کسی که در زندگی برنامه ندارد و هدفی برای خود تعیین نکرده، درگیر کدام یک از عوامل هدر دادن عمر است؟
 ۱) معاشرت با افراد بی‌نظم
 ۲) بی‌توجهی به اولویت‌ها
 ۳) امروز و فردا کردن
 ۴) بی‌حالی و تنبلی

دقیقه

۲۵

سؤال ۱۵

علوم تجربی

۲۱- بافت استخوان و غضروف از چه نوعی می‌باشد؟

- ۱) متراکم
 ۲) حفره‌دار
 ۳) پیوندی
 ۴) اسفنجی

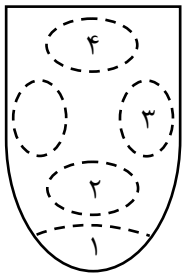
۲۲- ماهیچه جدار مثانه و ماهیچه باز و بسته کننده مردمک چشم به ترتیب از کدام نوع هستند؟

- ۱) مخطط - صاف
 ۲) صاف - مخطط
 ۳) صاف - صاف
 ۴) مخطط - مخطط

۲۳- پس از بستن چشم دوست خود، توسط یک میله شیشه‌ای استریل، مقداری از یک ماده تلخ را روی

مناطق مختلف زبان قرار می‌دهیم. کدام منطقه، بهترین دریافت مزه را از این ماده نشان می‌دهد؟

- ۱) منطقه ۱
 ۲) منطقه ۲
 ۳) منطقه ۳
 ۴) منطقه ۴



۲۴- به ترتیب کدام گزینه اندام هدف غده‌های زیر مغزی، پاراتیروئید و تخمدان می‌باشد؟

- ۱) استخوان - استخوان - استخوان لگن
 ۲) استخوان - کلیه - روده
 ۳) استخوان - کبد - استخوان لگن
 ۴) بافت ماهیچه - استخوان - روده

۲۵- غده با تأثیر بر روی یاخته‌های باعث افزایش در خون می‌شوند.

- ۱) تیروئید - کبد - گلوکاگون
 ۲) پانکراس - کبد - گلوکز
 ۳) پانکراس - بافت ماهیچه - گلوکز
 ۴) پاراتیروئید - کلیه - انسولین

۲۶- کدام یک از صفات زیر تحت تأثیر عوامل محیطی نمی‌تواند تغییر کند؟

- ۱) بیماری دیابت
 ۲) رنگ پوست
 ۳) رنگ چشم
 ۴) فشار خون

۲۷- ایجاد باکتری تولیدکننده انسولین در درمان و ایجاد برنج طلایی در پیشگیری از مؤثر است.

- ۱) دیابت وابسته به انسولین - ناشنوایی
 ۲) دیابت غیر وابسته به انسولین - ناشنوایی
 ۳) دیابت وابسته به انسولین - نابینایی
 ۴) دیابت غیر وابسته به انسولین - نابینایی

۲۸- تعداد فام تن‌ها (کروموزوم‌ها) در سلول‌های جاندار ۲۲ است. تعداد فام تن‌های (کروموزوم‌های) موجود در اسپرم این جاندار است که حاصل

تقسیم می‌باشد.

- ۱) ۲۲ - رشتمان
 ۲) ۱۱ - رشتمان
 ۳) ۲۲ - کاستمان
 ۴) ۱۱ - کاستمان

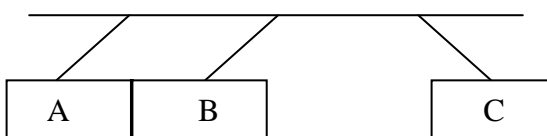
۲۹- هاگ یک یاخته ویژه برای تولید مثل است که می‌تواند به تنهایی و به طور مستقل جاندار جدیدی را ایجاد کند. از این نظر هاگ شبیه است.

- ۱) تخم
 ۲) تخمک
 ۳) کامه
 ۴) تخمدان

۳۰- کدام گزینه در مورد چگونگی شکل‌گیری دو قلوها صحیح است؟

- ۱) دوقلوهای همسان از لقاح دو تخمک و دو زامه و به صورت مستقل از هم ایجاد می‌شوند.
 ۲) دوقلوهای همسان هم شکل و از یک جنس می‌باشند.
 ۳) اگر یاخته تخم در مراحل اولیه به دو یاخته جدا از هم تقسیم شوند، دوقلوهای ناهمسان ایجاد می‌شوند.
 ۴) دوقلوهای ناهمسان از لقاح دو تخمک و دو زامه مختلف ایجاد می‌شوند و کاملاً هم شکل و هم جنس می‌باشند.

۳۱- در شکل زیر سه تیغه A، B و C آویزان شده‌اند. اگر بار میله C منفی باشد، بار تیغه‌های A و B چیست؟



- ۱) منفی، A منفی، B منفی
 ۲) مثبت، A مثبت، B منفی
 ۳) مثبت، A مثبت، B مثبت
 ۴) منفی، A منفی، B مثبت

۳۲- باردار شدن اجسام در کدام روش، بار هم‌نام ایجاد می‌کند؟

- ۱ مالش ۲ تماس ۳ القا ۴ گزیندهی ۱ و ۲

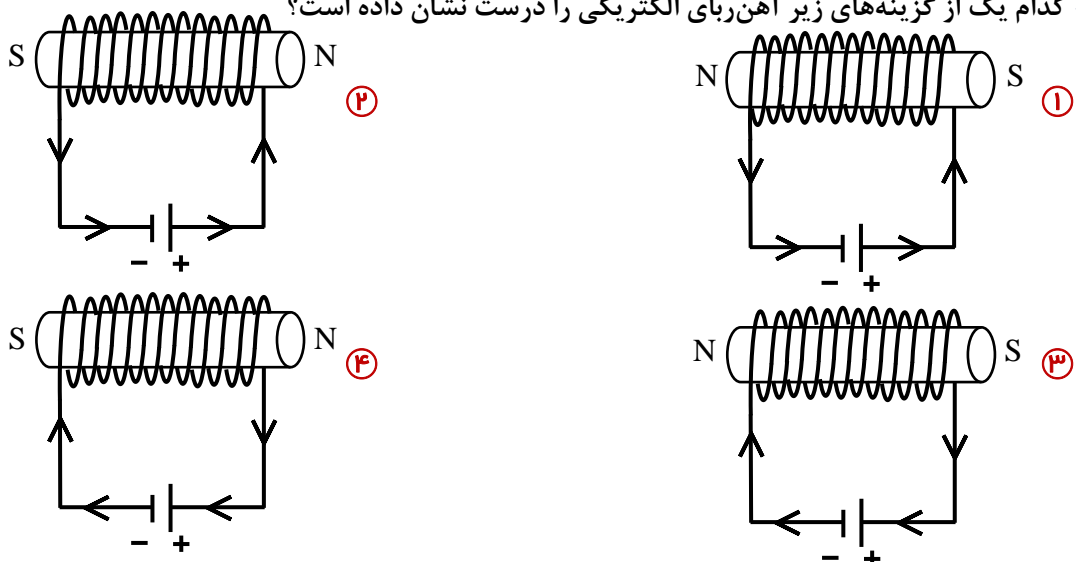
۳۳- در یک مدار الکتریکی اگر مقاومت را سه برابر و جریان را ۲ برابر کنیم، اختلاف پتانسیل چه تغییری می‌کند؟

- ۱ $\frac{3}{2}$ برابر می‌شود ۲ $\frac{2}{3}$ برابر می‌شود ۳ تغییر نمی‌کند ۴ ۶ برابر می‌شود

۳۴- اگر یک آهن‌ربا را آویزان کنیم، قطب ... آهن‌ربا به سمت قطب شمال جغرافیایی زمین که ... است قرار می‌گیرد.

- ۱ N - N ۲ S - N ۳ N - S ۴ S - S

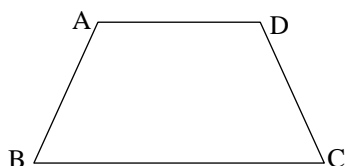
۳۵- کدام یک از گزینه‌های زیر آهن‌ربای الکتریکی را درست نشان داده است؟



۲۵ - دقیقه

ریاضی ۱۵ سؤال

۳۶- در یک دوزنقه متساوی‌الساقین، اندازه هر ساق ۵ و اندازه قاعده بزرگ و کوچک به ترتیب ۱۱ و ۵ می‌باشد، اندازه قطر این دوزنقه چقدر است؟



- ۱ $\sqrt{32}$ ۲ $\sqrt{48}$ ۳ $\sqrt{80}$ ۴ $\sqrt{96}$

۳۷- مساحت مثلث متساوی‌الاضلاع به ضلع a برابر است با:

- ۱ $\frac{\sqrt{3}}{4}a^2$ ۲ $\frac{\sqrt{3}}{2}a^2$ ۳ $\sqrt{3}a^2$ ۴ $2\sqrt{3}a^2$

۳۸- نقطه $A = \begin{bmatrix} -2 \\ -3 \end{bmatrix}$ ابتدای بردار $\vec{AB} = \begin{bmatrix} -3 \\ 4 \end{bmatrix}$ می‌باشد، مختصات نقطه B کدام است؟

- ۱ $\begin{bmatrix} -1 \\ 7 \end{bmatrix}$ ۲ $\begin{bmatrix} -5 \\ 1 \end{bmatrix}$ ۳ $\begin{bmatrix} -1 \\ 1 \end{bmatrix}$ ۴ $\begin{bmatrix} 5 \\ -1 \end{bmatrix}$

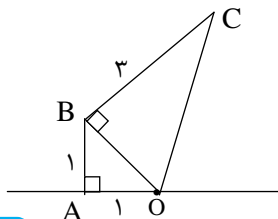
۳۹- اگر داشته باشیم $3\vec{x} = \begin{bmatrix} 2 \\ 3 \end{bmatrix} - 3\begin{bmatrix} 1 \\ 2 \end{bmatrix} + (\delta\vec{i} - \epsilon\vec{j})$ در این صورت مختصات بردار \vec{x} کدام است؟

- ۱ $\begin{bmatrix} 2 \\ -1 \end{bmatrix}$ ۲ $\begin{bmatrix} -2 \\ 1 \end{bmatrix}$ ۳ $\begin{bmatrix} -2 \\ -2 \end{bmatrix}$ ۴ $\begin{bmatrix} 4 \\ 2 \end{bmatrix}$

۴۰- اگر زاویه‌ی رأس یک مثلث متساوی‌الساقین 70° درجه باشد، اندازه‌ی زاویه خارجی مجاور به قاعده‌ی این مثلث چند درجه است؟

- ۱ ۱۲۵ ۲ ۱۱۰ ۳ ۱۲۰ ۴ ۱۴۰

۴۱- با توجه به شکل زیر، حاصل $\vec{OC} + \vec{OB}$ کدام گزینه است؟



- ۱ $\sqrt{13}$ ۲ $\sqrt{11} - \sqrt{2}$ ۳ $\sqrt{13} - \sqrt{2}$ ۴ $\sqrt{2} + \sqrt{11}$

۴۲- کدام دسته از اعداد زیر، اعداد فیثاغورسی هستند؟

۲، ۳، ۴ (۴)

۶، ۱۰، ۸ (۳)

۶، ۴، ۵ (۲)

۵، ۶، ۲ (۱)

۴۳- اگر $\vec{a} = \begin{bmatrix} -2 \\ 2 \\ 3 \end{bmatrix}$ و $\vec{b} = -\frac{3}{2}\vec{a}$ و $\vec{c} = 3\vec{a} - \vec{b}$ باشد، بردار \vec{c} بر حسب بردارهای واحد، کدام است؟

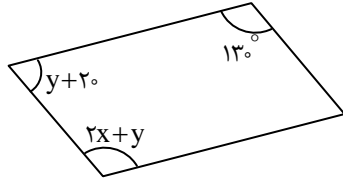
$\vec{c} = -3\vec{i} + 3\vec{j}$ (۴)

$\vec{c} = -9\vec{i} + 3\vec{j}$ (۳)

$\vec{c} = -3\vec{i} + \vec{j}$ (۲)

$\vec{c} = -9\vec{i} + \vec{j}$ (۱)

۴۴- چهارضلعی زیر یک متوازی‌الاضلاع است، اندازه x چقدر است؟



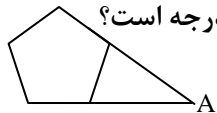
۵۰° (۱)

۳۰° (۲)

۱۱۰° (۳)

۴۰° (۴)

۴۵- در شکل مقابل دو ضلع یک پنج ضلعی منتظم را امتداد دادیم و در نقطه A برخورد کرده‌اند، اندازه زاویه A چند درجه است؟



۳۶° (۴)

۴۶° (۳)

۵۶° (۲)

۶۰° (۱)

۴۶- مقدار عددی عبارت $\frac{\Delta a(2-a)}{3a-2}$ به ازای $a = -2$ کدام است؟

۵ (۴)

-۵ (۳)

$-\frac{15}{2}$ (۲)

$\frac{15}{2}$ (۱)

۴۷- ساده شده‌ی عبارت جبری مقابل کدام گزینه است؟

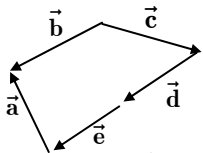
$8xy$ (۴)

صفر (۳)

$4xy$ (۲)

$-4xy$ (۱)

۴۸- در شکل مقابل، کدام بردار، حاصل جمع بردارهای دیگر است؟



\vec{a} (۴)

\vec{b} (۳)

\vec{e} (۲)

\vec{d} (۱)

۴۹- کدام یک از معادله‌های زیر دارای جواب $x = 6$ است؟

$\frac{2}{3}x - \frac{1}{2} = \frac{1}{6}$ (۴)

$\frac{x+1}{2} = \frac{x+2}{3}$ (۳)

$1 - \frac{x+1}{2} = \frac{1}{3}$ (۲)

$\frac{x-1}{2} - \frac{x+1}{3} = \frac{1}{6}$ (۱)

۵۰- کدام گزینه را نمی‌توان تبدیل به حاصلضرب دو عبارت جبری نمود؟

$3a^2bc^2 + 5ab^2c$ (۴)

$7x^2y + 3x$ (۳)

$x^2 + x^2 + x$ (۲)

$5bc + 7ac + 3ab$ (۱)



51- My cousin is good at stories.

(۱) talking

(۲) telling

(۳) taking

(۴) riding

52- Reza can paint a computer.

(۱) in

(۲) on

(۳) with

(۴) at

53- A: What's A - C - H - E in some words such as "headache"?

B: It's for

(۱) pain

(۲) health

(۳) patient

(۴) rest

54- Teacher: Class, be quiet! I'll be in a minute.

(۱) call

(۲) back

(۳) worry

(۴) help

55- I'm not good at basketball but I can tennis well.

(۱) playing - play

(۲) playing - playing

(۳) play - playing

(۴) play - play

56- I have a sore throat and a runnig nose. I think I have

(۱) a toothache

(۲) a backache

(۳) measles

(۴) the flu

57- Which one is not correct?

A: My sister has a cold.

B: She should

(۱) see a doctor

(۲) get some rest

(۳) eat hot soup

(۴) eat fast food

58- A: Can your father cook well?

B: No,

- ① he can ② he can't ③ she can't ④ he isn't

59- A:

B: Neda has sore eyes.

- ① Is Neda OK? ② Who has sore eyes? ③ Who is all right? ④ Is she all right?

60- I co_gh and sn__ze every morning.

- ① o , ee ② u , ea ③ u , ee ④ a , ee



ادبیات فارسی ۱۰ سؤال

۶۱- معنی واژه‌های «مستمع، معترف، چرتکه، جولاهه»، به ترتیب در کدام گزینه است؟

- ① شنونده، اقرارکننده، وسیله‌ای برای شمارش اعداد، بافنده ② شنوا، اعتراف‌کننده، وسیله‌ای برای شمارش اعداد، خیاط
③ گوش‌دهنده، بیان‌کننده، وسیله‌ای در ستاره‌شناسی، نساج ④ شنیدن، بیان‌کننده، وسیله‌ای در ستاره‌شناسی، نساج

۶۲- معنی چند واژه درست است؟

(استعمال: معمول داشتن) (حرمت: عزت) (یل:شجاع) (خَس: خسیس) (دلِق: نوعی جامه) (نژند: گرم) (سفتن: سوراخ کردن)
(تحریم: منع کردن) (پوپک: کبوتر)

- ① پنج ② شش ③ هفت ④ هشت

۶۳- املاي چند واژه نادرست است؟ (تشدید جزء غلط املايي محسوب نمی‌شود.)

«اسطرلاب، تسلط علمی، خارکش، لهجه خاص، نگاه تعسف بار، هلهله و شادی، منشأ خدمات، هوش و ذکاوت، سقف غار، سرزمین صبا، حکم محاربه، تخصص و تعهد.»

- ① یک ② دو ③ سه ④ چهار

۶۴- کدام بیت فاقد غلط املايي است؟

- ① آدمی را چو هفت مهر به دل نبود کم شمار از احريم
② ابر بهاران، وین چشم خونفشان هم بلبل به باغ نالان، عاشق به صد فغان هم
③ تابنده تر ز روی تو ماهی ندیده چرخ خوشتر ز ابروی تو حلالی نیافته
④ نه زان سپاه کسی چیره گی به جنگ نه زان بزرگان کس بر خلف بیافت ظفر

۶۵- هر یک از توضیحات زیر به ترتیب، مربوط به کدام شاعر یا نویسنده است؟

(الف) بزرگ‌ترین غزل سرای تاریخ ادبیات ایران است. وی در قرن «هشتم» متولد شد.

(ب) شعر او ساده روان و مشتمل بر کلمات و تعبیرات عامیانه است. وی از نوادگان «فتحعلی شاه قاجار» بود.

(پ) وی از شاگردان حکیم نامدار «ملاصدرا» بود و در تمامی علوم دینی، عرفان، فلسفه و ادبیات تبحر داشت. از آثار او می‌توان کتاب «وافی» و «تفسیر صافی» را نام برد.

(ت) این شاعر و نویسنده ایرانی در قرن نهم هجری می‌زیست. هفت اورنگ و نفحات الانس و بهارستان از آثار اوست.

- ① سعدی، ادیب‌الممالک، فیض کاشانی، جامی ② سعدی، بیدل دهلوی، فیض کاشانی، نظامی
③ حافظ، ایرج میرزا، صائب تبریزی، سنایی ④ حافظ، ایرج میرزا، فیض کاشانی، جامی

۶۶- کدام بیت فاقد «جناس» است؟

- ① یکی تیر زد بر بر اسب اوی که اسب اندر آمد ز بالا به روی
② من امروز نر بهر جنگ آدمم پی پوزش و نام و ننگ آدمم
③ مرا که با تو سخن گویم و سخن شنوم نه گوش فهم بماند، نه هوش استفهام
④ کدامین پیک را دادی، پیامی کدامین شب، فرستادی سلامی

۶۷- در مصراع نخست کدام گزینه «آن» صفت اشاره نیست؟

- ① گوهرفشان کن آن لب کز شوق جان فشانم جان پیش آن دو لعل گوهرفشان فشانم
② بر خاکم اگر پا نهد آن سرو خرامان هر خار مزارم زندش دست به دامن
③ به ره او چو غم، آن را که زجان می‌گذرد که زجان در ره آن جان جهان می‌گذرد
④ که گذارد که به خلوتگه آن شاه برآیم من که در کوچۀ او ره ندهندم به گدایی

۶۸- کدام بیت فاقد صفت بیانی است؟

- ۱) منصور سرگذاشت در این راه و برنگشت
 ۲) کار خوشی است شغل محبت ولی چه سود
 ۳) می شود پنجه خورشید از آن روی چو ماه
 ۴) جوهر ذاتی به نور عاریت محتاج نیست
- زاهد در این غم است که دستار می رود
 کز حسن کار، دست و دل از کار می رود
 تا از آن زلف سیاه شانه برون می آید
 در شب تار از فروغ خود شود پیدا گهر

۶۹- کدام بیت با سایر ابیات قرابت معنایی ندارد؟

- ۱) نام نیکو گر بماند ز آدمی
 ۲) بزرگش نخوانند اهل خرد
 ۳) چو خواهی که نامت بود جاودان
 ۴) نام نیک رفتگان ضایع مکن
- به کزو ماند سرای زرنگار
 که نام بزرگان به زشتی برد
 مکن نام نیک بزرگان نهان
 تا بماند نام نیکت پایدار

۷۰- مفهوم بیت «گفتم که روی خوبت، از من چرا نهان است؟ / گفتا: تو خود حجابی، ورنه زخم عیان است!» با کدام بیت تناسب بیشتری دارد؟

- ۱) گفتم ببینمش مگرم درد اشتیاق
 ۲) نیابد بدو نیز اندیشه راه
 ۳) حلقه چشمی چو دور آسمان باید وسیع
 ۴) آنکه جسم و جان از او پیدا و او از جسم و جان
- ساکن شود، بدیدم و مشتاق تر شدم
 که او برتر از نام و از جایگاه
 تا تماشای جمال عالم آرایش کنند
 ذات پاک او بری از جسم و جان پیداست کیست

عربی ۱۰ سؤال

۷۱- ترجمه کدام عبارت صحیح است؟

- ۱) سَأَلَ الْمُدْرَسَ حَوْلَ مَهْنَةِ الْمُسْتَقْبَلِ: معلم درباره آینده شغلی پرسید.
 ۲) طَلَبْتُ أُمَّ الْفَرَسِ مِنْ وَكَلِهَا حَمْلَ الْحَقِيبَةِ: مادر اسب از فرزند حمل کردن کیف را خواست.
 ۳) تَعَمَلُ هَاتَانِ الْفَلَّاحَتَانِ فِي الْبُسْتَانِ: این دو کشاورز در کشتزار کار می کنند.
 ۴) وَالِدَتِي سَتَرْجِعُ غَدًا وَ سَتَطْبُخُ طَعَامًا لَذِيذًا: مادرم فردا برخواهد گشت و غذایی لذیذ خواهد پخت.

۷۲- در کدام گزینه فعل درست به کار نرفته است؟

- ۱) نَحْنُ نَأْخُذُ كِتَابِينَ مِنَ الْمَكْتَبَةِ
 ۲) أَنْتَ يَعْلَمُ وَأَنْتُمْ لَا تَعْلَمُونَ
 ۳) يَخْرُجُ اللَّاعِبَانِ مِنْ سَاحَةِ الْمُسَابَقَةِ
 ۴) أَيْتَهَا الْبِنْتَانِ، هَلْ تَطْبُخَانِ الطَّعَامَ

۷۳- ترجمه کدام گزینه غلط است؟

- ۱) مَا ذَهَبْتُ لِزِيَارَةِ الْمَدِينِ الْمُقَدَّسَةِ: برای زیارت شهرهای مقدس نرفتم.
 ۲) مَا مَهْنَةُ أَبِيكَ يَا أُسْرِينَ: آسیرین پدرت شغل ندارد.
 ۳) مَا عَبَّرَ الْفَرَسُ الْتَهْرَ: اسب از رودخانه عبور نکرد.
 ۴) أَنْتُمْ مَا عَمِلْتُمْ فِي الْمَصْنَعِ: شما در کارخانه کار نکردید.

۷۴- در کدام گزینه معنی واژگان مشخص شده به درستی ذکر شده است؟

- «الطُّلَابُ ذَكَرُوا أَصْحَابَ الْمَهْنِ. مَدْرَسَةَ الْكِيمِيَاءِ تَشْرَحُ الدَّرْسَ. الطَّبِيبُ يَفْحَصُ الْمَرْضَى»
 ۱) شغل، کیمیا، بیمار
 ۲) شغل‌ها، شیمی، بیمار
 ۳) شغل‌ها، شیمی، بیماران
 ۴) شغل، شیمی، بیماران

۷۵- در کدام گزینه تمام فعل‌ها «مضارع دوم شخص مفرد» است؟

- ۱) هُوَ يَقْرَأُ دَرُوسَهُ وَأَنْتَ تَلْعَبُ بَسِيارَةً
 ۲) الْبَقْرَةُ تَسْمَعُ كَلَامَ السَّنَجَابِ وَلَكِنْ لَا تَفْهَمُ
 ۳) أَنْتَ تَفْحَصُ الْمَرْضَى وَ عَمِلْتَ فِي الْمَخْتَبَرِ أَمْسَ
 ۴) تَذْهَبِينَ إِلَى الْمَدْرَسَةِ وَتَجْلِسِينَ عَلَى الْكُرْسِيِّ

۷۶- در کدام گزینه تمامی افعال ماضی هستند؟

- ۱) ذَهَبَا، غَسَلُوا، وَصَلْتُمْ
 ۲) تَرْجِعُونَ، جَعَلْنَا، قَالَ
 ۳) عَمِلْتَ، تَكْتَبِينَ، تَفْعَلُونَ
 ۴) نَذَهَبُ، دَخَلْتُمْ، فَرِحْتُمْ

۷۷- در کدام گزینه کلمات متضاد وجود دارد؟

- ۱) الْعَاقِلُ يَنْظُرُ إِلَى الْيَسَارِ وَالْيَمِينِ ثُمَّ يَعْبُرُ الشَّارِعَ
 ۲) مَنْ كَتَمَ عِلْمًا فَكَانَهُ جَاهِلًا
 ۳) وَالِدَتِي سَتَطْبُخُ طَعَامًا لَذِيذًا وَ نَحْنُ سَوْفَ نَأْكُلُهُ
 ۴) الْعِلْمُ خَزَائِنٌ وَ مِفْتَاحُهَا السُّؤَالُ

۷۸- کدام گزینه برای جای خالی مناسب است؟ «ماذاتَفْعَلِينَ؟ عَنِ الْمِفْتَاحِ الْعُرْفَةِ»

- ۱) نَبِحْتُ
 ۲) أَبِحْتُ
 ۳) بَحِثْنَا
 ۴) بَحِثْتُ

۷۹- در کدام گزینه زمان فعل متفاوت است؟

- ۱) كما تعرفون أنا أطلبُ صلاحكم دائماً
 ۲) غزاةٌ صغيرةٌ لا تقدرُ على الدفاع
 ۳) يضربُ الله الأمثالَ للناسِ و الله بكلِّ شيءٍ عليم
 ۴) أنتم ستذهبون إلى كربلاء بالطائرة

۸۰- در کدام گزینه کلمات ناهماهنگ وجود دارد؟

- ۱) غزاة، فرس، بقرة، سنجاب
 ۲) باب، عمود، جدار، نافذة
 ۳) مستوصف، وصفة، طبيب، حبوب
 ۴) شرطي، خباز، رياضة، حداد

دقیقه ۱۵

مطالعات اجتماعی ۱۵ سؤال

۸۱- با توجه به چه شرایطی به عربستان قبل از بعثت عصر جاهلیت می‌گویند؟

- ۱) سیاسی - اجتماعی
 ۲) فرهنگی - اقتصادی
 ۳) اجتماعی - فرهنگی
 ۴) اقتصادی - سیاسی

۸۲- چرا پیامبر اسلام از مسلمانان خواستند به حبشه مهاجرت کنند؟

- ۱) گسترش اسلام
 ۲) فرار از مدینه
 ۳) دعوت پادشاه حبشه
 ۴) افزایش شکنجه مشرکان

۸۳- یکی از اقدامات پیامبر گرامی اسلام در مدینه بستن پیمان برادری بین مسلمانان بود. این اقدام جایگزین کدام شیوه و روش عصر جاهلیت بود؟

- ۱) کینه و خشم
 ۲) تعصب قبیله‌ای
 ۳) حس انتقام‌جویی
 ۴) جنگ و خونریزی‌های پیاپی

۸۴- پیامبر گرامی اسلام با چه هدفی به فرمانروایان کشورهای بزرگ نامه نوشتند؟

- ۱) رعایت اصول اخلاقی
 ۲) احترام به ارزش‌های انسانی
 ۳) هدایت همه مردم جهان
 ۴) دعوت کشورهای بزرگ

۸۵- کدام‌یک از خلفای زیر با نظر گروهی از انصار و مهاجرین به خلافت رسید؟

- ۱) ابوبکر
 ۲) عمر
 ۳) عثمان
 ۴) امام علی(ع)

۸۶- کدام یک از موارد ذیل از اقدامات امام علی(ع) در زمان خلافت سه خلیفه اول نبود؟

- ۱) پاسخ‌گویی به سوالات دینی مردم
 ۲) تفسیر قرآن و تربیت شاگردان
 ۳) شرکت در فتوحات جهان اسلام
 ۴) عمران و آبادی و احداث نخلستان‌ها

۸۷- مسلم بن عقیل سفیر چه کسی در کوفه بود؟

- ۱) امام علی(ع)
 ۲) امام حسن(ع)
 ۳) امام حسین(ع)
 ۴) امام سجاد(ع)

۸۸- از جمله دلایل اجتماعی مخالفت مردم ایران با حکومت ساسانیان است.

- ۱) وجود نظام طبقاتی
 ۲) شیوع بیماری‌های طاعون و وبا
 ۳) شکسته شدن سدها
 ۴) شورش‌های فرماندهان

۸۹- چرا مردم ایران از هر فرصتی برای مخالفت و مبارزه با حکومت اموی، استفاده می‌کردند؟

- ۱) امویان حکومت خود را بر پایه خشونت و ظلم بنا نهادند.
 ۲) نماینده عباسیان بودند و آن‌ها مخالف بنی امیه بودند.
 ۳) ایرانیان مقام و منصب‌های مهم نداشتند.
 ۴) از ظلم و ستم و قوم‌گرایی امویان به ستوه آمده بودند.

۹۰- پیامبر گرامی اسلام(ص) کدام‌یک از اصحابشان را جزء اهل بیت خود نامیدند؟

- ۱) مقداد
 ۲) سلمان
 ۳) ابودر
 ۴) عمار

۹۱- وزیران کدام سلسله ایرانی جز ادیبان و عالمان نامدار بودند؟

- ۱) صفاریان
 ۲) سامانیان
 ۳) علویان
 ۴) طاهریان

۹۲- سلطان رکن‌الدین لقب چه کسی بود؟

- ۱) محمود غزنوی
 ۲) اسماعیل سامانی
 ۳) طغرل سلجوقی
 ۴) یعقوب صفاری

۹۳- در زمان حکومت خوارزمشاهیان چه کسانی به ایران حمله کردند؟

- ۱) غزنویان
 ۲) مغولان
 ۳) سلجوقیان
 ۴) عباسیان

۹۴- مهم‌ترین وظیفه وزیران دوره سلجوقی چه بود؟

- ۱) بهبود اوضاع اقتصادی و فرهنگی
 ۲) رونق کشاورزی، بازرگانی و صنعت
 ۳) رشد هنر و معماری
 ۴) تنظیم رابطه سلطان با خلیفه و دیگر فرمانروایان

۹۵- خلافت عباسی توسط چه کسی پایان یافت؟

- ۱) هلاکوخان
 ۲) چنگیزخان
 ۳) غازان خان
 ۴) اولجایتو